

# Prova le **ATTIVITÀ**



Esercizi tratti dalla serie:  
**I compiti vanno in vacanza**

# Istruzioni generali

- 1) Taglia tutte le pagine del libro seguendo le linee tratteggiate.



- 2) Scrivi le iniziali del tuo nome e cognome su ogni schedina.



- 3) Incolla le etichette grandi sulle quattro buste piccole.



- 4) Studia le operazioni molte volte per automatizzarle.




- 5) Risolvi oralmente i problemi tante volte senza scrivere il risultato.



- 6) Dopo aver studiato i problemi gioca a ricomporre i puzzle.



- 7) Leggi le storie aiutandoti con la mascherina.



- 8) Impara a raccontare le storie muovendo le figurine dei personaggi.




- 9) Raccogli tanti piccoli ricordi delle vacanze da portare in classe.




- 10) Porta a scuola le buste piccole raccolte nella busta più grande, su cui avrai attaccato l'adesivo rimasto.





Quante fragole?  
Quanti frutti?  
Quanti frutti rossi?

1




Quanti fiori?  
Quanti fiori non rossi?  
Quanti fiori per vaso?

3



Quanti bicchieri a calice?  
Quanti bicchieri a calice pieni?  
Quanti bicchieri pieni?

5



Quante mele?  
Quanti frutti?  
Quanti frutti verdi?

2




Quanti ombrelloni aperti?  
Quanti ombrelloni verdi?  
Quanti ombrelloni verdi chiusi?

4



Quante tazze con il manico?  
Quante tazze rosse con il manico?  
Quante tazze rosse?

6





## La collina

Leggi e completa il disegno dall'altra parte della striscia.

In cima a una collina si vede una casa di contadini. Si notano bene le tegole, gli archi e un grande camino che fuma.

Davanti ci sono un marciapiede e un prato pieno di cespugli fioriti. A destra si vede un grande noce con una scala appoggiata al tronco.

Alla sinistra della casa si vede la cuccia del cane.

In lontananza si notano altre colline.

Sulla cima di una di esse si scorge un paesino con alcune case e un campanile.

È appena finito di piovere e c'è un grande arcobaleno nel cielo.



## Il mare

Leggi e completa il disegno dall'altra parte della striscia.

Si vede una lunga striscia di sabbia.

Cominciando da sinistra ci sono due ombrelloni a spicchi rossi e bianchi e due a spicchi verdi e bianchi.

Nella sabbia si notano alcune torri di castelli costruiti dai bambini.

A destra è rimasto un secchiello rosso con dentro una paletta.

Sparsa sulla sabbia ci sono stelle marine e conchiglie.

All'orizzonte si vede una barca con una grande vela bianca gonfiata dal vento.

Il sole rosso sta tramontando e colora il cielo di giallo e arancio.

Tre gabbiani solcano il cielo. C'è molta pace.



## La città

Leggi e completa il disegno dall'altra parte della striscia.

Si vede una lunga fila di case.

Alcune case hanno i portici. Altre hanno grandi vetrate perché sono dei negozi.

Sopra il palazzo senza tetto c'è la scritta hotel.

Le case sono ricche di finestre con i fiori sul davanzale. I tetti, coperti di tegole, sono pieni di antenne e comignoli.

All'estrema destra una pianta con una grande chioma fa ombra alla panchina.

L'orologio del campanile segna le 12:00.

Le vetrate della chiesa sono variopinte.


Non piove ma il cielo è pieno di nuvole.

Da fare



Fatto

Completa il disegno  
seguendo la descrizione.

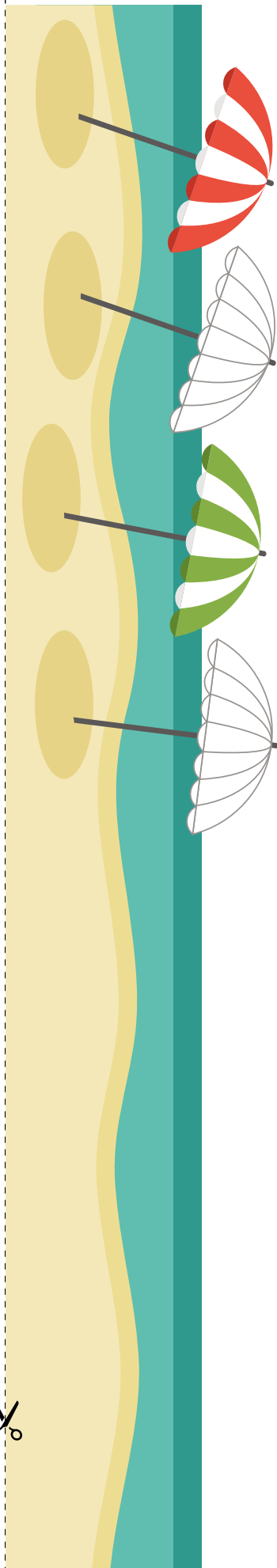


Da fare



Fatto

Completa il disegno  
seguendo la descrizione.



Da fare




Fatto

Completa il disegno  
seguendo la descrizione.



Ter




r



# Rebus

9 - 5


Comm




8 - 3 - 5


St




ris



6 - 8


Da, fare


Stu




# Rebus

8 - 8


A




le



5 - 5


St



sci



6 - 7

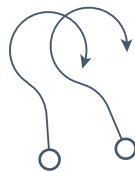

Da, fare




6 - 5

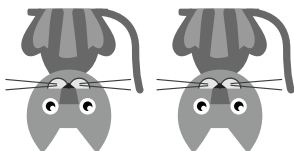


on



c


5 - 5 - 5



negli a



s


7 - 5

Rebus



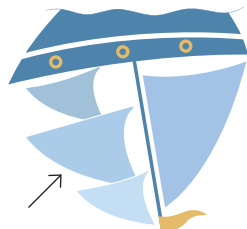
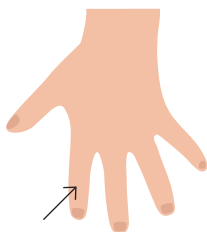
zzi



Da fare


8 - 7

glia spe




5 - 5



r



Fi

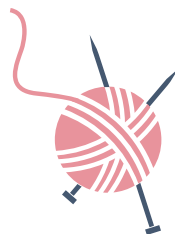

7 - 2 - 5

Rebus

le




di



col

Da fare



### Quante palline?


Conta tutte le palline prima che la bomba esploda.

--	--	--



Fatto

Da fare



### Quante palline rosse?


Conta tutte le palline rosse prima che arrivi la vespa.

--	--	--



Fatto

Da fare



### Quante palline?

Conta tutte le palline prima che arrivi il granchio.

--	--	--



Fatto

Da fare

Da fare




### Qual è il totale?

Scopri il percorso di calcolo mentale più semplice. Guarda le colonne.

- |   |   |   |   |   |   |   |    |
|---|---|---|---|---|---|---|----|
| 8 | 7 | 6 | 5 | 6 | 7 | 8 | 10 |
| 1 | 2 | 3 | 4 | 3 | 2 | 1 | 10 |
| 1 | 1 | 1 | 1 | 1 | 1 | 1 | 10 |

### Risultato



Da fare



Per passare il fiume risolvi con tre salti.

300

- 100

- 30

- 5

**Risultato**

Da fare



Per passare il fiume risolvi con tre salti.

400

- 100

- 50

- 5

**Risultato**